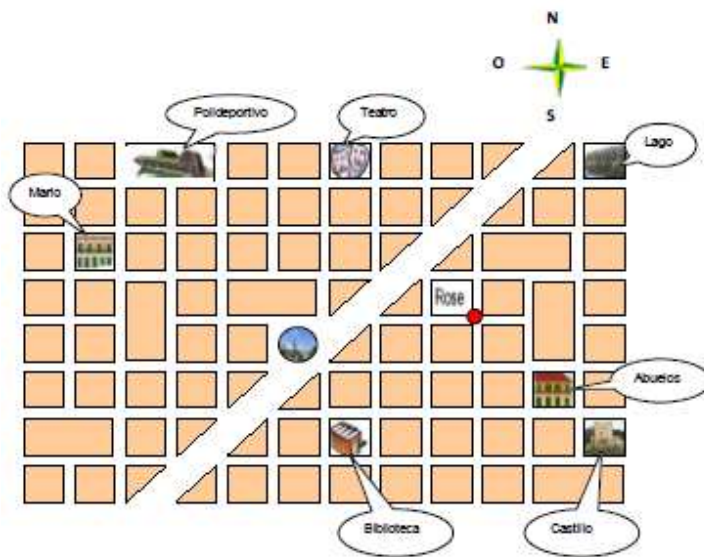


EL PUEBLO DE MARIO Y ROSE

Mario y Rosa han buscado cierta información sobre su pueblo: el plano, el número de habitantes, etc. Con esta información deben responder a algunas preguntas en su cuaderno escolar de actividades.



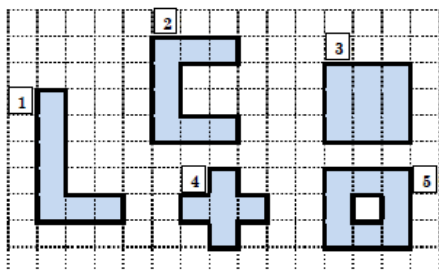
PREGUNTA 1. Rosa sale de su casa (punto rojo), y anda tres calles (cuadros) hacia el sur y luego dos hacia el oeste. ¿A qué lugar llega?

A. Al lago	
B. Al teatro	
C. Al castillo	
D. A la biblioteca	

PREGUNTA 2. Las tres cuartas partes de los 1.200 nuevos vecinos que llegaron al pueblo el año pasado se han hecho socios del polideportivo. ¿Cuál es esta cantidad?

A. 300	
B. 600	
C. 900	
D. 1.200	



PREGUNTA 3. Cerca del lago hay varias piscinas infantiles. Tienen las formas siguientes:



¿Cuáles de ellas tienen la misma superficie?

A. 1 y 2	
B. 2 y 3	
C. 2 y 5	
D. 3 y 5	

PREGUNTA 4. Este año el ayuntamiento ha colocado 18 bancos y 15 maceteros en el pueblo. Fíjate en los precios que tienen.

	
36 €	24 €

¿Cuánto dinero se ha gastado el ayuntamiento en total en los bancos y maceteros? Resuelve el problema, expresando las operaciones que haces y la solución.

Operaciones:

Solución: _____

EL CLUB DE ATLETISMO

En el club de atletismo saben que el atletismo es una actividad muy saludable. Además, ayuda a ser responsable y a crear relaciones de amistad.

La directora del club ha elaborado esta tabla, organizando el número de chicos y chicas por edades:

	7 años	8 años	9 años	10 años	11 años	12 años
Chicos	23	23	23	20	15	13
Chicas	25	23	21	24	17	17

PREGUNTA 5. ¿Cuántas chicas más que chicos hay en el club? Elige la respuesta correcta:

A. 7	<input type="checkbox"/>
B. 8	<input type="checkbox"/>
C. 9	<input type="checkbox"/>
D. 10	<input type="checkbox"/>

PREGUNTA 6. A las 24 chicas del club que tienen 10 años se les ha hecho una encuesta sobre cuál es la modalidad de atletismo que más les gusta. Éstas han sido sus respuestas:

- La mitad ha elegido el salto de altura.
- 7 han elegido el salto de longitud.
- El resto ha elegido la carrera de obstáculos.

¿Cuántas chicas de 10 años han elegido la carrera de obstáculos?

Operaciones:

Respuesta: _____

PREGUNTA 7. Los 244 miembros del club han ido a ver una competición de atletismo. Cada uno ha entregado al club 5 € para el autobús y 3 € para la entrada al estadio. Al llegar al estadio se dan cuenta de que la entrada sólo vale 2 €.

¿Cuánto dinero ha pagado el club en total por la salida?

Resuelve el problema, expresando las operaciones que haces y la solución.

Operaciones:

Solución: _____