

Nombre y apellidos _____ Fecha _____

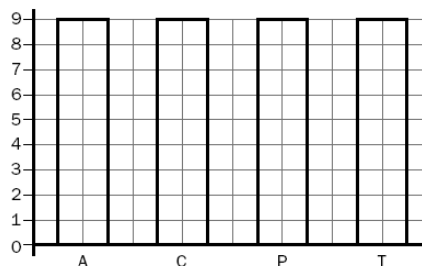
1. Irene ha anotado el número de niños y de niñas que hay en el parque. Completa la tabla y contesta:

	RECuento	TOTAL
NIÑOS		
NIÑAS		

- a) ¿Cuántas niñas hay?
- b) ¿Cuántos niños?
- c) ¿Cuántos son en total?

2. Observa los datos que ha recogido Javier acerca de las lecturas favoritas de sus compañeros de clase. Con los datos de la tabla, completa la gráfica de barras y contesta.

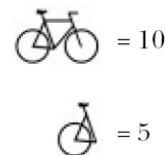
LECTURA FAVORITA	RECuento	TOTAL
AVENTURAS (A)		
CUENTOS (C)		
POESÍA (P)		
TEBEOS (T)		



- a) ¿Cuál es la lectura preferida por los compañeros de Javier?
- b) ¿Cuántos prefieren leer más tebeos que poesía?

3. En este pictograma se representa el número de bicicletas vendidas en el primer trimestre del año pasado. Observa la gráfica y contesta.

ENERO	
FEBRERO	
MARZO	
ABRIL	
MAYO	
JUNIO	

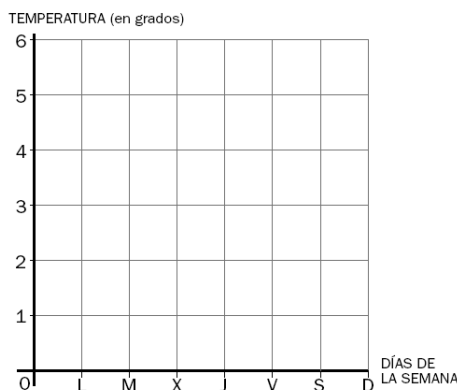


- a) ¿En qué mes se vendieron más bicicletas?
- b) ¿Cuántas bicicletas se vendieron en marzo?

- c) ¿En qué mes se vendieron 35 bicicletas?
- d) ¿Cuántas bicicletas se vendieron en total?

4. Con los datos de esta tabla completa la gráfica de líneas:

DÍA DE LA SEMANA	TEMPERATURA (en grados)
LUNES	4
MARTES	2
MIÉRCOLES	1
JUEVES	3
VIERNES	6
SÁBADO	5
DOMINGO	2



5. Manuel ha anotado los meses de cumpleaños de los niños y de las niñas que ayer estuvieron en el parque. Completa la tabla y contesta.

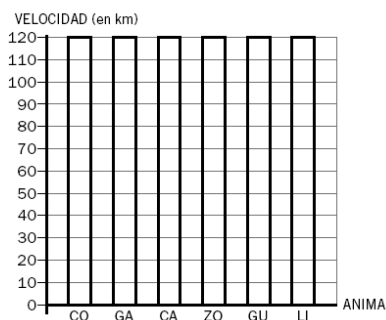
MES	RECUENTO	TOTAL
ENERO		3
FEBRERO		
MARZO		
ABRIL		
MAYO		
JUNIO		

MES	RECUENTO	TOTAL
JULIO		
AGOSTO		
SEPTIEMBRE		
OCTUBRE		
NOVIEMBRE		
DICIEMBRE		

- a) ¿En qué mes se celebran más cumpleaños?
- b) ¿Qué ocurre en mayo y en agosto?






6. En la tabla se recoge la velocidad en kilómetros por hora que pueden alcanzar algunos animales. Completa la gráfica de barras y contesta.



ANIMAL	VELOCIDAD (en km)
CONEJO (CO)	80
GACELA (GA)	100
CABALLO (CA)	70
ZORRO (ZO)	60
GUEPARDO (GU)	120
LIEBRE (LI)	70



- a) ¿Cuál es el animal más rápido?
- b) ¿Y el más lento?

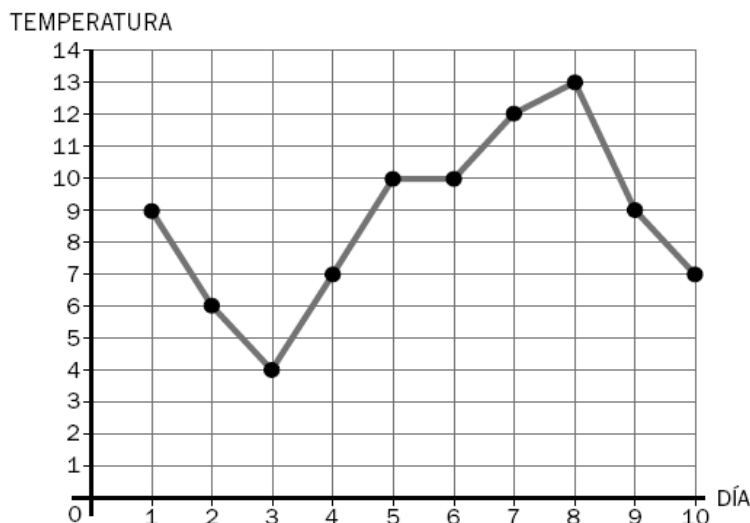
7. En esta tabla aparece el número de kilos de manzanas que se han recogido en las huertas de Carducia. Observa y contesta.

LAS CASILLAS	
LA FRESNEDA	
VILLACORTILLA	
EL COTO	
EL VERGAZAL	

 = 50 kilos
 = 25 kilos

- a) ¿En qué huerta se han recogido mayor cantidad de manzanas? ¿Cuántos kilos?
- b) ¿Cuántos kilos se han recogido en La Fresneda?
- c) ¿En qué huerta se han recogido 175 kilos?

8. Durante las dos primeras semanas del mes de diciembre, los niños y las niñas de 3.º han tomado la temperatura a las 10 horas de la mañana y han obtenido este gráfico:



- a) ¿Cuál fue la temperatura el primer día de diciembre?
- b) ¿Qué temperatura hizo el día 3? ¿Y el día 10?
- c) ¿Qué día la temperatura fue la más baja?
- ¿Y la mas alta?